

PREFEITURA MUNICIPAL DE CORUMBIARA, RO.

EDITAL Nº 001/2020 – CONCURSO PÚBLICO.

PROVA OBJETIVA.

CARGO: CARPINTEIRO.

Leia atentamente as INSTRUÇÕES:

1. Não será permitido ao candidato realizar a prova usando óculos escuros (exceto para correção visual, ou fotofobia, desde que informe no ato da inscrição), ou portar aparelhos eletrônicos (mesmo desligados), qualquer tipo de relógio, chaves, carteira, bolsa, acessórios que cubram o rosto, a cabeça, ou parte desta.
2. Poderá ser eliminado, deste Concurso Público de Provas e Títulos o candidato cujo(s) aparelho(s) eletrônico(s), mesmo desligado(s), emitir(em) qualquer som durante a realização da prova. O tempo em que permanecer no local, onde estará ocorrendo o Concurso Público de Provas e Títulos, o candidato deverá manter o celular desligado, sendo permitido ligá-lo somente após ultrapassar o portão de saída do prédio, sob pena de ser eliminado deste Concurso Público de Provas e Títulos.
3. O candidato poderá manter em cima da sua carteira apenas lápis, borracha, caneta, um documento de identificação e lanche, exceto líquido. **Outros pertences**, antes do início das provas, o candidato deverá acomodá-los embaixo de sua cadeira, sob sua guarda e responsabilidade.
4. Confira se a sua prova tem **20** questões, cada qual com 4 alternativas, veja se o cargo para o qual se inscreveu está correto.
5. Confira seus dados no cartão-resposta (nome, número de inscrição e o cargo para o qual se inscreveu) e **ASSINE** o mesmo.
6. Preencha toda a área do cartão-resposta correspondente à alternativa de sua escolha, com caneta esferográfica (tinta azul, ou preta), sem ultrapassar as bordas. As marcações duplas, ou rasuradas, com corretivo, ou marcadas diferentemente do modelo estabelecido no cartão-resposta poderão ser anuladas.
7. Observe as orientações apresentadas no cartão-resposta. O mesmo não será substituído, salvo se contiver erro de impressão.
8. Aguarde a autorização do fiscal para abrir o caderno de provas. Ao receber a ordem, confira o caderno de provas com muita atenção. Nenhuma reclamação sobre o total de questões, ou falha de impressão, será aceita depois de iniciada a prova.
9. Cabe apenas ao candidato a interpretação das questões, o fiscal não poderá fazer nenhuma interferência. A avaliação de conhecimentos terá duração máxima de **3h (três horas)**, incluso o tempo destinado ao preenchimento do cartão-resposta.
10. O Candidato poderá se retirar do local da prova somente **1h (uma hora)** após seu início, levando seu caderno de prova.
11. Ao término da prova, o candidato deverá entregar ao fiscal de sala o cartão-resposta preenchido e assinado.
12. Os **3 (três)** candidatos, que terminarem a prova por último, deverão permanecer na sala, e só poderão sair juntos, após o fechamento do envelope, contendo os cartões-respostas dos candidatos presentes e ausentes, e assinarem no lacre do referido envelope, atestando que este foi devidamente lacrado.
13. Ao término da prova, o candidato deverá se retirar do recinto onde está ocorrendo a mesma, não lhe sendo mais permitido o uso do banheiro e bebedouro.

BOA PROVA!

LÍNGUA PORTUGUESA.

Leia o poema para responder às próximas quatro questões.



ESSA QUE EU HEI DE AMAR... (Guilherme de Almeida).

Essa que eu hei de amar perdidamente um dia
será tão loura, e clara, e vagarosa, e bela,
que eu pensarei que é o sol que vem, pela janela,
trazer luz e calor a essa alma escura e fria.

E quando ela passar, tudo o que eu não sentia
da vida há de acordar no coração, que vela...
E ela irá como o sol, e eu irei atrás dela
como sombra feliz... — Tudo isso eu me dizia,

quando alguém me chamou. Olhei: um vulto louro,
e claro, e vagaroso, e belo, na luz de ouro
do poente, me dizia adeus, como um sol triste...

E falou-me de longe: "Eu passei a teu lado,
mas ias tão perdido em teu sonho dourado,
meu pobre sonhador, que nem sequer me viste!"

01. De acordo com o poema, assinale a alternativa incorreta.

- a) A mulher que o eu lírico há de amar, é comparada ao sol que vem pela janela.
- b) As palavras do poema "loura, clara, luz, calor, vulto louro e claro, luz de ouro do poente, sol triste", comparam a mulher amada à lua.
- c) O eu lírico fala de um amor futuro, que esta mulher é alguém que ele ainda não conhece.
- d) Para o eu lírico, a mulher dos seus sonhos, ainda não está identificada, ele refere-se a ela, através dos pronomes essa, ela, alguém.

02. Na segunda estrofe do poema, os versos "E ela irá como o sol, e eu irei atrás dela como sombra feliz..." temos a figura de linguagem:

- a) Prosopopeia.
- b) Hipérbole.
- c) Silepse.
- d) Comparação.

03. Em se tratando de encontros vocálicos, assinale a alternativa correta, nas palavras do texto (alguém, louro, dourado).

- a) Ditongo / ditongo / ditongo.
- b) Hiato / hiato / hiato.
- c) Ditongo / hiato / hiato.
- d) Ditongo / ditongo / hiato.

04. Quanto à separação de sílabas das palavras do texto (poente, ouro, tão), assinale a alternativa correta.


- a) Po-en-te / ou-ro / tâ-o.
- b) Poen-te / ou-ro / tão.
- c) Po-en-te / ou-ro / tão.
- d) Po-en-te / o-u-ro / tão.

05. Quanto ao uso dos porquês, assinale a alternativa incorreta.

- a) Eis por que o demiti.
- b) Ah, você fez e agora não sabe por quê?
- c) Não apoio esse governo, por que desconfio dele.
- d) Eles substituíram minha filha por que pessoa?

MATEMÁTICA.

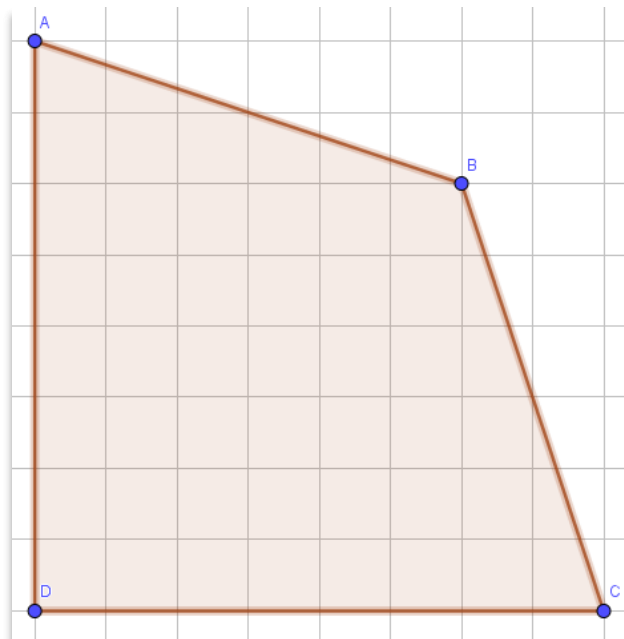
06. O relógio de Ronaldo possui apenas o ponteiro marcador das horas, conforme a figura a seguir.



Sabendo que este ponteiro gira com uma velocidade constante, podemos afirmar que o relógio marca 10 horas e x minutos. O valor de x em algarismos romanos é igual a:

- a) XXII.
- b) XXIV.
- c) XXX.
- d) XXXVI.

07. Joaquim comprou o terreno mostrado na figura a seguir.



Sabendo que o lado de cada quadriculado corresponde a 3 metros, a área total do terreno é:

- a) 324 m².
- b) 378 m².
- c) 432 m².
- d) 540 m².

08. Mariana tem 3 filhos: Antônio, Bernardo e Clóvis. Sabe-se que o produto entre as idades de Antônio e Bernardo é 15, o produto entre as idades de Bernardo e Clóvis é 55 e o produto entre as idades de Antônio e Clóvis é igual a idade de Mariana. A idade dela é:

- a) 26 anos.
- b) 33 anos.
- c) 35 anos.
- d) 40 anos.

09. A distância entre Corumbiara e Vilhena é de aproximadamente 140 quilômetros. João mora em Corumbiara e tem um compromisso em Vilhena às 15 horas de um determinado dia. Como João está acostumado a fazer essa viagem e sabe que a sua velocidade média nesse trajeto é de 60 km/h, o horário máximo que João deve sair de Corumbiara para não se atrasar ao compromisso é:

- a) 12h00.
- b) 12h20.
- c) 12h40.
- d) 13h00.

10. Juninho encontrou a expressão a seguir escrita no caderno de seu irmão:

$$\frac{8^{2/3} - 2^{3/2}}{2^1 + \sqrt{2}}$$

Como Juninho adora resolver questões de Matemática, ele decidiu simplificar a expressão. Considerando que ele simplificou a expressão de maneira correta, o valor encontrado por Juninho foi:

- a) $4\sqrt{2}$.
- b) 6.
- c) $2 - \sqrt{2}$.
- d) $6 - 4\sqrt{2}$.

CONHECIMENTOS GERAIS.

11. Corumbiara, RO, foi elevada à categoria de município em:

- a) 13 de fevereiro de 1992.
- b) 9 de agosto de 1995.
- c) 1 de janeiro de 1997.
- d) 20 de maio de 1992.

12. Qual o nome do governador do Estado de Rondônia?

- a) Laercio Marchini.
- b) Valdinei da Costa Espíndola.
- c) Genadir Ribeiro.
- d) Marcos José Rocha dos Santos.

13. Nos termos da Lei Orgânica do Município de Corumbiara, RO, assinale a alternativa correta.

- a) São símbolos do Município de Corumbiara, a Bandeira, o Hino e o Brasão, representativos dos poderes Legislativo e Executivo.
- b) A defesa dos interesses municipalistas fica assegurada por meio de associação, ou convênios com outros municípios, ou entidades locais, previamente autorizadas por lei.
- c) A criação, organização e supressão de Distritos, dependem de Lei Estadual, observado os interesses do município.
- d) O Município de Corumbiara, RO, compõe-se dos Distritos de Alto Guarajús, Rondolândia, Vitória da União, Verde Seringal e Nova Colina.

14. Segundo o Plano de Carreira, Cargos e Salários da Prefeitura do Município de Corumbiara, RO, indique a alternativa incorreta.

- a) O Plano de Carreira, Cargos e Salários são o conjunto de normas e procedimentos que regulam a vida do servidor.
- b) O Regime Jurídico Único dos Servidores Públicos do Município de Corumbiara é o Estatutário.
- c) Carreira é a passagem do servidor de uma para outra referência, imediatamente posterior, dentro de sua classe.
- d) É vedada a passagem do servidor de um cargo para outro, sem concurso público.

15. “Corumbiara originou do Nuar Nova Esperança, integrante do Projeto de Colonização Paulo de Assis Ribeiro / INCRA. Tornando-se destacado núcleo agropecuário, com expressivo desenvolvimento socioeconômico, foi elevado a município com a denominação de Corumbiara, em homenagem a esse importante rio afluente da margem direita do rio Guaporé, sendo desmembrado da área territorial _____”. (Fonte: <https://www.corumbiara.ro.leg.br/>).

Qual alternativa completa o texto, de forma correta?

- a) do Município de Cerejeiras.
- b) dos Municípios de Colorado do Oeste e Vilhena.
- c) do Município de Pimenteiras do Oeste.
- d) dos Municípios de Comodoro e Vilhena.

CONHECIMENTOS ESPECÍFICOS.

16. “O tratamento da madeira deve ser realizado para prevenir sua deterioração, ampliando assim seu tempo de vida útil. O tratamento comumente utilizado é o químico, no qual ocorre a fixação de elementos preservativos na madeira, tornando-a mais resistente à ação de fungos e insetos, principalmente, se a madeira ficar em contato direto com a água, ou com o solo.

A madeira utilizada na construção é mais comum ser tratada com o produto químico CCA, o qual se fixa na madeira após o processo de tratamento. Isto significa que este produto não irá escorrer para fora da madeira. Em adição, este produto é alterado no processo de fixação, tanto que a madeira tratada não é perigosa à saúde.

Além do CCA, tem crescido em popularidade os Boratos, que são vistos como sendo mais ecologicamente corretos do que o CCA [...]”.

(Fonte: Revista da Madeira – Edição nº 117 – novembro de 2008).

Sobre tratamento de madeira, avalie os itens e assinale a alternativa verdadeira.

I- A madeira devidamente tratada tem uma vida útil 5 a 10 vezes superior a uma não tratada.

II- Há dois métodos básicos de tratamento: com, ou sem pressão. O método sem pressão consiste na aplicação de produto preservativo por brocha, spray, ou banho da parte a ser tratada.

III- A Creolina, mais conhecida como preservativo de óleo preto, é o método preservativo mais antigo ainda em uso.

IV- Tanto o CCA, como os Boratos, são injetados na madeira com água, após isso ela deve ser posta para secagem, até atingir uma umidade abaixo de 10%, antes de ser instalada.

- a) É incorreto o que se afirma no item I.
- b) É incorreto o que se afirma no item II.
- c) É incorreto o que se afirma no item III.
- d) É incorreto o que se afirma no item IV.

17. Marque a alternativa que preencha na sequência correta as lacunas dos textos:

(1) _____ é (são) fibra(s) de madeira que passam por um processo de aglutinação com bastante pressão. As chapas são homogêneas e possuem superfície uniforme. Podem receber pintura, verniz e laminados.

(2) _____ é (são) feito(s) com diversas lâminas de madeira, de mesma espessura, coladas sucessivamente de modo a formar chapas. Tem uma boa resistência mecânica e é utilizado na fabricação de móveis e prateleiras.

(3) _____ é (são) camadas de partículas de madeira sobrepostas, com as maiores posicionadas no centro da chapa e as mais finas nas superfícies. É utilizado para móveis residenciais e comerciais, de preferência retilíneos. Possui boa estabilidade e garante bom acabamento. Além disso, tem boa fixação das ferragens, menor absorção de umidade.

(4) _____, é (são) formado (s) pela mistura de resíduos de madeira e depois prensado. Aceita bem pintura e verniz e é utilizado para a fabricação de móveis e gavetas. Sua principal vantagem é o baixo custo, no entanto, tem baixa resistência à umidade, suporta pouco peso e apresenta curta durabilidade.

- a) (1) MDP – (2) Aglomerado – (3) HDF – (4) Compensado laminado.
- b) (1) Compensado laminado – (2) MDP – (3) Aglomerado – (4) HDF.
- c) (1) HDF – (2) Compensado laminado – (3) MDP – (4) Aglomerado.
- d) (1) Aglomerado – (2) HDF – (3) Compensado laminado – (4) MDP.

18. Analise o que se afirma sobre cobertura na construção civil, atribuindo (V) verdadeiro e (F) falso aos itens e aponte a alternativa correta:

() A cobertura pode ser calculada para suportar qualquer tipo de telha. Assim como os demais painéis, deve ser contraventada e bloqueada para suportar as cargas de vento.

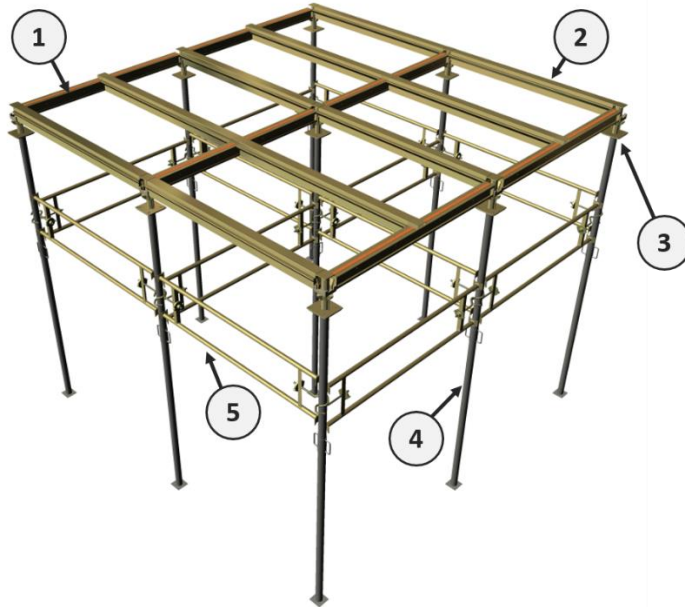
() Em coberturas também podem ser adotadas vigas de altura variável e com seção em forma de calha para direcionamento das águas de chuva.

() As telhas de aço têm sido cada vez mais utilizadas em coberturas e fechamentos de obras industriais, comerciais, residenciais e institucionais, bem como aeroportos e galpões.

() As telhas onduladas apresentam vantagens em projetos nos quais a cobertura não é plana. Isso porque, em função de sua forma, permitem uma curvatura maior no sentido horizontal.

- a) V – V – V – V.
- b) V – V – V – F.
- c) V – F – V – V.
- d) F – V – F – V.

19. Os escoramentos são estruturas utilizadas para dar suporte ao peso do pavimento construído, enquanto o processo de cura do concreto não é finalizado. Nos cabeçais é que são instaladas as escoras fixas, que estarão presentes até o final do ciclo de cura do concreto. Sobre isso analise a figura a seguir:



Qual número indica a escora?

- a) 4.
- b) 1.
- c) 2.
- d) 5.



20. (Fonte: a importância do uso do EPI, disponível em <https://www.saudeevida.com.br/importancia-do-uso-de-epi/>).

Julgue se é (C) correto ou (I) incorreto o que se afirma sobre Equipamentos de Proteção Individual e indique a alternativa correta:

() Todas as atividades profissionais que possam imprimir algum tipo de risco físico para o trabalhador devem ser cumpridas com o auxílio de *EPIs* – Equipamentos de Proteção Individual, que incluem óculos, protetores auriculares, máscaras, mangotes, capacetes, luvas, botas, cintos de segurança, protetor solar e outros itens de proteção.

() O uso do EPI é fundamental para garantir a saúde e a proteção do trabalhador, evitando consequências negativas em casos de acidentes de trabalho. Além disso, o EPI também é usado para garantir que o profissional não será exposto a doenças ocupacionais, que podem comprometer a capacidade de trabalho e de vida dos profissionais, durante e depois da fase ativa de trabalho.

() O EPI é importante para proteger os profissionais individualmente, reduzindo qualquer tipo de ameaça, ou risco para o trabalhador. O uso dos equipamentos de proteção é determinado por uma norma técnica chamada NR 6.

- a) C – C – I.
- b) C – I – C.
- c) I – I – C.
- d) C – C – C.

RASCUNHO.